



**Ficha virtual 4° básico N°12**  
**“Decimales”**

Nombre: \_\_\_\_\_ Curso: \_\_\_\_\_ Fecha: \_\_\_\_\_

**Objetivo de aprendizaje:**

Comparar y ordenar números decimales hasta la centésima (OA 11)

Resolver adiciones y sustracciones de decimales, empleando el valor posicional hasta la centésima en el contexto de la resolución de problemas (OA 12)

**Actividad 1:** Compara y escribe  $<$ ,  $>$ , ó  $=$ , utiliza las tablas de valor posicional. Guíate con el ejemplo:

7,3 > 7,03

|   |   |   |   |   |
|---|---|---|---|---|
|   | 7 | , | 3 |   |
|   | 7 | , | 0 | 3 |
| D | U |   | d | c |

3.01 < 3.1

|   |   |   |   |   |
|---|---|---|---|---|
|   | 3 | , | 0 | 1 |
|   | 3 | , | 1 |   |
| D | U |   | d | c |

Los dos números tienen la misma cantidad de unidades. El primer número tiene más décimos que el segundo, por eso el **primer número es mayor**.

Ahora los dos números tienen la misma cantidad de unidades. El segundo número tiene más décimos que el primero, **por eso 3,1 es mayor**.

a. 9,1  9,09

|   |   |   |   |   |
|---|---|---|---|---|
|   |   | , |   |   |
|   |   | , |   |   |
| D | U |   | d | c |

b. 2,08  2,04

|   |   |   |   |   |
|---|---|---|---|---|
|   |   | , |   |   |
|   |   | , |   |   |
| D | U |   | d | c |

c. 12,08  12,70

|   |   |   |   |   |
|---|---|---|---|---|
|   |   | , |   |   |
|   |   | , |   |   |
| D | U |   | d | c |

d. 0,96  0,79

|   |   |   |   |   |
|---|---|---|---|---|
|   |   | , |   |   |
|   |   | , |   |   |
| D | U |   | d | c |

e. 40,01  4,9

|   |   |   |   |   |
|---|---|---|---|---|
|   |   | , |   |   |
|   |   | , |   |   |
| D | U |   | d | c |

f. 6,10  6,9

|   |   |   |   |   |
|---|---|---|---|---|
|   |   | , |   |   |
|   |   | , |   |   |
| D | U |   | d | c |

g. 0,11  1,01

|   |   |   |   |   |
|---|---|---|---|---|
|   |   | , |   |   |
|   |   | , |   |   |
| D | U |   | d | c |

h. 2,16  21,6

|   |   |   |   |   |
|---|---|---|---|---|
|   |   | , |   |   |
|   |   | , |   |   |
| D | U |   | d | c |

i. 5,6  5,60

|   |   |   |   |   |
|---|---|---|---|---|
|   |   | , |   |   |
|   |   | , |   |   |
| D | U |   | d | c |

j. 10,09  10,1


|   |   |   |   |   |
|---|---|---|---|---|
|   |   | , |   |   |
|   |   | , |   |   |
| D | U |   | d | c |




**Actividad 2:** Pinte y calcule:

a)  $1,54 + 2,41$


Primero representa 1,54:



Ahora representa 2,41:



Finalmente representa la suma de  $1,54 + 2,41 =$



**Actividad 3:** Calcular

a)  $2,04 + 1,15 =$

b)  $0,87 - 0,69 =$